



ЕДИНЕН ПРИЕМЕН ИЗПИТ

1700 София, Студентски град "Христо Ботев", www.unwe.acad.bgТЕСТ
МОДУЛ 1 + МОДУЛ 2 + МОДУЛ 3 "ИСТОРИЯ НА БЪЛГАРИЯ"

ПРОЧЕТЕТЕ ВНИМАТЕЛНО СЛЕДНИТЕ УКАЗАНИЯ:

Преди началото на изпита получавате книжка с теста, калъфче с две химикалки (тънкописци), линийка и голям плик, в който се намират картата за отговори и малък плик.

Книжката с теста

На левите страници са въпросите, на които трябва да отговорите.

Десните страници са празни и там можете да си водите бележки, които ще ви помогнат да намерите верния отговор.

Книжката с теста не е официален документ и няма да бъде проверявана.

Картата за отговори

Това е официалният документ за вашия изпит, който се проверява от скенер - затова я попълвайте особено внимателно. Тази карта е уникална за всеки участник в теста и не може да бъде подменяна. Отговорите на всички въпроси в картата за отговори имат поредни номера, обозначени с арабски цифри. За всички въпроси са посочени по пет възможни отговора, оградени с кръгчета и обозначени с главни букви от А до Д.

Когато определите верния според вас отговор, маркирайте съответната главна буква с химикалката - тънкописец.

Попълвайте отговорите в кръгчетата като внимавате да **покриете цялата буква и да не излизате извън кръгчето**, което сте избрали за верен отговор – така ще се избегнат грешки при сканирането на вашата карта. Не е позволено изтриване, забелване и всякакви други средства за корекция в картата за отговори. В полетата за отговори е позволено маркиране само вътре в кръгчетата за отговори. Имайте предвид, че не се допуска обжалване и преразглеждане на картата при неправилно маркиране. За всяка грешка и неправилно маркиране отговорността е ваша. Според чл. 46 ал.2 от Правилника за прием на студенти в УНСС **«при неспазване на което и да е изискване от указанията за попълване на теста, работата се анулира»**.

10	(А)	(Б)	<input checked="" type="radio"/>	(Г)	(Д)	ПРАВИЛНО МАРКИРАН ОТГОВОР
<i>Всяко друго маркиране е неправилно – скенерът не чете отговора: губят се точки от въпроса или работата се анулира</i>						

Всеки въпрос има само един верен отговор и затова в реда от кръгчета трябва да маркирате само една от посочените главни букви. Маркирането на повече от един отговор ви носи 0 точки, дори единият от тях да е верен.

Контролната карта

Тя се намира под перфорацията в долния край на картата за отговори. Попълнете я внимателно. Контролната карта и картата за отговори са единен документ и имат един и същ идентификационен номер – баркод. Това е вашият идентификационен документ, който ще удостовери, че картата за отговори е вашата карта.

ВНИМАНИЕ! Размяната на вашата контролна карта с друга карта за отговори и обратното е недопустима, защото води до различна идентификация и **работата ви се анулира**. Проверявайте лично за това!

Запълвайте верните отговори само с предоставените ви тънкописци, които са **черни (проверете това!)** - иначе работата ви също се **анулира**.

Работата се анулира и когато: 1. върху баркода е драскано; 2. драскано е върху празните полета между отговорите; 3. е направен опит да се изтрие вече маркиран отговор; 4. картата за отговори е сгъната; 5. повече от еднократно е прегъната контролната карта.

Успех!

МОДУЛ 1 „БЪЛГАРСКИ ЕЗИК И ЕЗИКОВА КУЛТУРА”

1) В кое от изреченията има грешка при членуването?

- А) „Изворът на белоногата“ от П. Р. Славейков е най-забележителният литературен факт на своето десетилетие.
- Б) Римският император Клавдий Пелтека, наследил Калигула на 50-годишна възраст, е основният персонаж в романизираната биография „Божествения Клавдий” от Робърт Грейвз.
- В) Вазов пише одата си „Българският език“ през 1883 година – една от най-плодоносните в биографията на твореца.
- Г) Едно от челните места в класацията „Голямото четене“ се заема от „Малкият принц“ на Антоан дьо Сент Екзюпери.
- Д) Романът „Железният светилник“ е първият от Талевата тетралогия, посветена на Македония.

2) В коя от подчертаните позиции няма грешка?

Елин Пелиновите (А) герои са личности (Б) със самостоятелно мислене, които авторът олавя (В) в момент на важен избор, носещ недвусмислено (Г) нравствено (Д) послание.

3) Коя от подчертаните думи е написана без правописна грешка?

През летните ваканционни (А) месеци момчето ходило (Б) всеки ден на някакви тайствени (В) тренировки, станало неузнаваемо (Г) на вид и започнало да привлича удобрителни (Д) погледи.

4) Посочете в коя от думите има правописна грешка.

- А) магнит
- Б) кремвирш
- В) недостатък
- Г) конвейер
- Д) магнетофон

5) Значението на определението „конвенционален” в изрази като „конвенционален човек” и „конвенционални оръжия” е:

- А) уговорен
- Б) договорен
- В) традиционен
- Г) ядрен
- Д) неядрен

6) Попълнете празното място в изречението с най-точната за контекста дума.

Възможно е динозаврите да са били _____ от метеорит.

- А) убити
- Б) ликвидирани
- В) унищожени
- Г) затрити
- Д) терминирани

7) Коя от подчертаните думи е написана правилно?

Пакосникът (А) незнае (Б), че може да се осакъти (В) по невнимание, но това не значи, че непрестано (Г) трябва да му се правят забележки (Д).

8) В коя от подчертаните позиции има грешка?

Но въпреки това ние не можем (А) да подозираме (Б) Мидхат Паша (В) в особена (Г) любов към българите. Няма грешка (Д).

9) В кой ред има пунктуационна грешка?

- А) Пита ли ме как издържам цялото семейство!
- Б) Всичко ще мине спокойно, но дали ще бъде за добро?
- В) Любопитно ми беше дали ще се видим някога.
- Г) Интересуваше се, ще се явя ли на интервюто.
- Д) Нали отговорността е изцяло негова, след като плаща авансово?

10) За следващото изречение

Обаждайки се на пожарната служба, тя пристигна след 10-ина минути. Много беше страшно, ама – слава богу, бързо дойдоха хората!

е вярно твърдението:

- А) Неправилно е използвано „обаждайки се“.
- Б) Неправилно е изписано „пожарната служба“.
- В) Неправилно е изписано „10-ина“.
- Г) Неправилно е използван съюз „ама“.
- Д) Неправилно е изписано „слава богу“.

11) В следващото изречение има една грешка. Посочете я.

Специалните (А) теоретични (Б) предмети са абсолютно (В) безсмислени (Г), ако не намират тяхното (Д) приложение в практиката.

12) За пунктуацията в изречението

Днес ние не знаем откъде точно минават Аспаруховите конници, преди да пресекат Дунавската делта и да разпънат шатрите си в Онгъла, нито какви мисли са водили хана на юг, към земите на Византия, но през 680 г., слизайки от коня Аспарух вече е знаел, че там неговите прабългари трябва най-сетне да пуснат корен.

е вярно твърдението:

- А) Липсва запетая, която да отдели обстоятелственото пояснение „Днес“.
- Б) Запетаята пред израза „нито какви мисли са го водили на юг“ е излишна, защото нямаме двоен съюз „нито – нито“.
- В) Изречението е правилно пунктуационно оформено.
- Г) Пропусната е запетаята след израза „слизайки от коня“, който представлява обособената част.
- Д) Запетаята след израза „през 680 г.“ е излишна, защото целият израз „през 680 г. слизайки от коня“ е обособена част.

13) В кое изречение думата „зрял“ има различно значение в сравнение с останалите?

- А) По пазара има вече зрели домати.
- Б) Зрелите жита се люлеят на вълни.
- В) Романът е плод на зрелите години на писателя.
- Г) Зърното капе от зрелите класове.
- Д) Поднесоха ни разнообразни зрели плодове.

14) В коя от подчертаните позиции има грешка?

След като засега (А) успешно се справихме с компютърният (Б) проблем 2000, дойде ред да се сборим (В) и с някои по-маловажни (Г) проблеми. Няма грешка (Д).

15) Посочете в кое изречение не са спазени пунктуационните правила.

- А) Освен животинския и растителния свят, с който сме заобиколени през целия си живот, съществува и светът на, невидимите с просто око, микроорганизми.
- Б) Плодовете на клена са като малки хеликоптерни перки, които се въртят, докато падат.
- В) Плодовете на овощните дървета обикновено са сочни, повече или по-малко сладки, ароматни, същински плодове.
- Г) Според вида на плодвата част, заради която се отглеждат, овощните дървета се делят на семкови, костилкови и орехоплодни видове.
- Д) Вкусни, здравословни и с прекрасни диетични свойства, ягодите задължително трябва да присъстват в пролетното меню.

16) В следващия микротекст има една грешка. Посочете я.

Изхождайки от тези неоспорими (А) предпоставки, ученият направил извода (Б), че библиотеката е всеобхватна и че в книгите по нейните дъвици (В) се съдържат всички възможни съчетания на двайсет (Г) и няколко писмени знака (тази бройка, макар и много голяма, не е безкрайна) или всичко, което може да бъде изразено, - на всички езици. Няма грешка (Д).

17) В кое изречение има пунктуационна грешка?

- А) Честно казано, все още не всичко ни е наред.
- Б) Алеко нарича хората, които са видели Ниагара, „щастливци“.
- В) Първобитните хора изработват каменни оръдия, с които си осигуряват по-добра прехрана.
- Г) В средновековния град, който бил заобиколен от високи крепостни стени, почти всички къщи били дървени.
- Д) Втренчили очи в Странджата хъшовете го слушат внимателно.

18) В кой ред има правописна грешка?

- А) Каменов е юрисконсулт на високо професионално ниво.
- Б) Земята се върти около оста си.
- В) Не ми се вярваше, но беше истински фокусник.
- Г) Неподготвените в планината са винаги в опасност.
- Д) На пропускателния пункт митничарите откриха 40 кг чист хероин.

19) В следващото изречение има една грешка. Посочете я.

Вампирът (А) е демоничен персонаж (Б) от низшата (В) митология на българите, произлизащ от превъплатената (Г) душа на нечист (Д) и грешен покойник.

20) Коя от позициите е написана неправилно?

Положението се променило през XVII-и (А) век, когато в Англия и Америка решили, че чесънът (Б) е присъщ на беднотията, предразсъдъците (В) и сексуалната разпуснатост. Голяма била декласацията (Г) на чесъна (Д), но триумфалното му реабилитиране е още по-голямо.

МОДУЛ 2 „МАТЕМАТИКА – ОСНОВИ“

1) Нека $a = 4\sqrt{3}$, $b = 5\sqrt{2}$ и $c = 3\sqrt{5}$. Кое от изброените неравенства е вярно?

- А) $a < b < c$
- Б) $c < b < a$
- В) $b < a < c$
- Г) $c < a < b$
- Д) $b < c < a$

2) В едно училище присъстват 98% от учениците, а броят на отсъстващите е 10. Колко са всички ученици в училището?

- А) 1000
- Б) 800
- В) 600
- Г) 500
- Д) 450

3) Броят на решенията на уравнението $7^x + 1 = 2 \cdot 7^{-x}$ е:

- А) 0
- Б) 1
- В) 2
- Г) 3
- Д) 4

4) Да се пресметне $\frac{\log_{125} 5}{\log_{625} 5}$.

- А) $2/3$
- Б) $-1/2$
- В) $-4/3$
- Г) $1/2$
- Д) $4/3$

5) Колко на брой са първите **естествени** четни числа, чиято сума е 650?

- А) 25
- Б) 50
- В) 30
- Г) 26
- Д) 49

6) За коя стойност на параметъра a системата
$$\begin{cases} \frac{2x}{3} - \frac{3y}{2} = a \\ -4x + 9y = 6 \end{cases}$$
 има безбройно много решения?

- А) $3/2$
- Б) -6
- В) 6
- Г) 1
- Д) -1

7) Колко са решенията на уравнението $\sqrt{3x+4} + \sqrt{x-4} = 4$?

- А) 0
- Б) 1
- В) 2
- Г) 3
- Д) 4

8) Кое е квадратното уравнение, чиито корени са $x_1 = \frac{3}{2}$ и $x_2 = \frac{2}{5}$?

- А) $x^2 - 19x + 6 = 0$
- Б) $10x^2 + 19x - 6 = 0$
- В) $10x^2 + 19x + 6 = 0$
- Г) $10x^2 - 19x - 6 = 0$
- Д) $10x^2 - 19x + 6 = 0$

9) Намерете всички стойности на параметъра a , за които графиката на функцията $y = x^2 - ax + 1$ няма общи точки с абсцисата?

- А) $a \in (-\infty, -2] \cup [2, +\infty)$
- Б) $a \in (-\infty, 2)$
- В) $a \in (2, +\infty)$
- Г) $a \in [-2, 2]$
- Д) $a \in (-2, 2)$

10) Да се намери стойността на израза $\frac{\cos 4\alpha}{\sin(30^\circ + \alpha) - \sin(-\alpha)}$ при $\alpha = 30^\circ$.

- А) $\sqrt{3} - 1$
- Б) $\frac{\sqrt{3} - 1}{2}$
- В) $\frac{1 - \sqrt{3}}{2}$
- Г) $1 - \sqrt{3}$
- Д) $-\frac{\sqrt{3}}{2}$

11) Броят решения на уравнението $\sin^4 x - \cos^4 x = 0$ в интервала $\left(0, \frac{\pi}{2}\right)$ е:

- А) 0
- Б) 1
- В) 2
- Г) 3
- Д) 4

12) Дефиниционното множество на функцията $y = \lg\left(\frac{-1}{2x}\right) + \frac{1}{2x^2 - 2}$ е:

- А) $(-1, 1)$
- Б) $(0, 1)$
- В) $(-1, 0)$
- Г) $(-\infty, -1) \cup (-1, 0)$
- Д) $(-\infty, -1) \cup (1, +\infty)$

13) Намерете границата $\lim_{x \rightarrow 0} \frac{\cos 2x - 1}{x^2}$.

- А) $1/2$
- Б) 2
- В) 0
- Г) -2
- Д) -1

14) Намерете локалните екстремуми на функцията $y = \frac{1}{x^2 + 1}$.

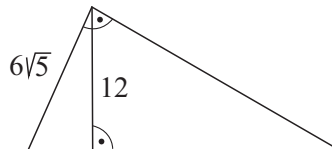
- А) $y_{\max} = y(0) = 1$, няма локален минимум
- Б) $y_{\min} = y(0) = 1$, няма локален максимум
- В) $y_{\min} = y(1) = 1/2$, няма локален максимум
- Г) $y_{\max} = y(1) = 1/2$, няма локален минимум
- Д) Функцията няма локални екстремуми

15) В равнобедрен трапец бедрото е равно на малката основа, а диагональът е равен на голямата основа. Намерете острия ъгъл на трапеца.

- А) 64°
- Б) 80°
- В) 76°
- Г) 72°
- Д) 60°

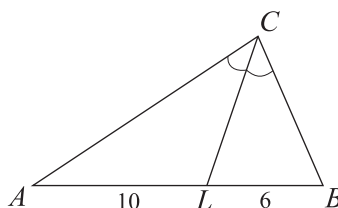
16) В правоъгълен триъгълник височината към хипотенузата има дължина 12, а единият катет е с дължина $6\sqrt{5}$. Намерете лицето на триъгълника.

- А) 160
- Б) 150
- В) 180
- Г) 200
- Д) 360



17) Периметърът на $\triangle ABC$ е 40. Ъглополовящата през върха C дели страната AB на части $AL = 10$ и $LB = 6$. Намерете дължината на ъглополовящата CL .

- А) $6\sqrt{2}$
- Б) 6
- В) 8
- Г) $4\sqrt{3}$
- Д) $5\sqrt{3}$



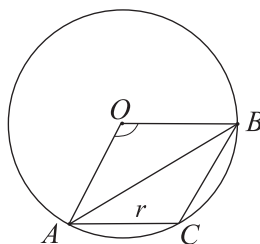
18) В $\triangle ABC$ са дадени $AB = 15$, $BC = 13$ и $AC = 4$. Да се намери дължината на височината към страната AC .

- А) 12
- Б) 14
- В) 10
- Г) $8\sqrt{2}$
- Д) $6\sqrt{3}$

19) Равнобедрен триъгълник $\triangle ABC$ ($AC = BC$) е вписан в окръжност с център O и радиус r .

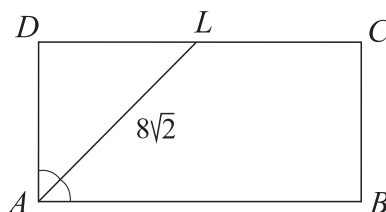
На колко е равен $\angle AOB$, ако $AC = r$.

- А) 120°
- Б) 160°
- В) 80°
- Г) 100°
- Д) 140°



20) Ъглополовящата AL на $\angle A$ в правоъгълника $ABCD$ дели страната CD на две равни части и има дължина $8\sqrt{2}$. Лицето на трапеца $ABCL$ е:

- А) 102
- Б) 96
- В) 93
- Г) 99
- Д) 87



МОДУЛ 3 „ИСТОРИЯ НА БЪЛГАРИЯ”

- 1) Кой е последният български владетел от рода на хан Аспарух - Дуло?
- А) хан Тервел, който се възкачва на престола през 701 г.;
 - Б) хан Винех, който се възкачва на престола през 753 г.;
 - В) последният представител на рода Дуло е хан Кардам. С идването на хан Крум през 803 г. започва управлението на рода Укил;
 - Г) последни наследници на рода Дуло са Телец, Сабин, Умор, Токту и Паган;
 - Д) хан Севар, който се възкачва на престола през 738 г.
- 2) От кого българската държава приема християнството и какъв е статутът на нейната църква?
- А) от римската църква, което прави българската църква независима от византийската патриаршия;
 - Б) от Константинополската патриаршия и българската църква получава автокефален статут;
 - В) от руската църква, което прави българската църква независима от византийската патриаршия и римския папа;
 - Г) от римския папа и българската църква получава пълна автономия;
 - Д) от гръцката църква и приема нейните правила на дейност.
- 3) Кога окончателно се слага край на езическия период в България?
- А) през зимата на 852 г. от хан Пресиян;
 - Б) през пролетта на 907 г. от цар Симеон;
 - В) през есента на 893 г. от княз Борис със свалянето на княз Владимир от престола;
 - Г) през зимата на 867 г. от княз Борис, когато е свикан събор в Преслав;
 - Д) през 853 г., когато Борис I се утвърждава във властта.
- 4) Коя е основната цел на българската външна политика при управлението на Симеон Велики?
- А) завладяването на Сърбия и Хърватия, с което всички славянски племена ще бъдат обединени в една държава;
 - Б) обединението на всички славянски племена;
 - В) признаването на българската народност като равностойна на тази в големите европейски държави;
 - Г) България да получи признаването от Византия и Рим като равноправна християнска държава в Европа;
 - Д) завладяването на Цариград и ликвидирането на византийската власт над Балканския полуостров.
- 5) Коя е съществената черта в социално-икономическото развитие на България през IX – X в.?
- А) утвърждаването на дребната поземлена собственост и формирането на манастирски имения;
 - Б) появата и нарастването на едрата поземлена собственост и формирането на светски и църковни имения и владения;
 - В) окончателно се оформят и обособяват двете основни класи в българското общество – аристокрацията и зависимото селячество. Увеличава се броят на свободните селяни и общинници. Църковните имения започват да се изравняват със светските;
 - Г) правят се първите опити за освобождаване на селяните от феодална зависимост и подчиняването им на държавните структури. Целта е да се разшири военната повинност поради множеството войни, които се водят през този период;
 - Д) засилва се експлоатацията над зависимото население. Рентата се събира в трите ѝ основни вида – отработъчна, натурална и парична. Окончателно се формират църковните имения.

- 6) Кога Иван Асен II променя военнополитическата линия на българската държава?
А) през 1236 г. той скъсва съюза с Епирската държава, сближава се с латинците и през 1238 г. води война с татарите. След победата над тях окончателно утвърждава българската хегемония на Балканите;
Б) през 1236 г. той влиза в съюз с Унгария и Никея срещу Латинската империя и запазва хегемонията на България на Балканите;
В) през 1237 г. той подновява съюза с латинците срещу Никеиската империя и запазва хегемонията на България на Балканите;
Г) през 1232 г. той скъсва унията с римската църква и утвърждава православната българска църква като най-могъща в тогавашния балкански духовен регион;
Д) след победата при Клокотница той утвърждава дипломатията като външнополитически път за разрешаване на българските политически проблеми.
- 7) Кои са книжовните школи, които се налагат като основни през XIV век?
А) Търновската и Охридската;
Б) Търновската и Светогорската;
В) Преславската, Търновската, Охридската и Светогорската;
Г) Търновската и Солунската;
Д) Преславската, Търновската и Охридската.
- 8) Началото на режима на капитулациите в Османската империя е поставено чрез договор, подписан:
А) през 1605 г. с Русия;
Б) през 1536 г. с Англия;
В) през 1581 г. с Австрия;
Г) през 1535 г. с Франция;
Д) през 1581 г. с Прусия.
- 9) Кой и кога написва “Житие и страдания грешнаго Софрония”?
А) Йосиф Брадати, след неговата смърт, около 1813 и 1815 г.;
Б) Блазиус Клайнер, между 1820 и 1825 г.;
В) Димитър Попски, между 1846 и 1849 г.;
Г) Захари Стоянов, след Освобождението;
Д) Софроний Врачански, между 1803 и 1805 г.
- 10) На еснафските организации се гарантират вътрешна автономия и държавно покровителство със:
А) Гюлханския хатишериф от 1839 г.;
Б) Хатихумаюна от 50-те години на XIX век;
В) Закона за занаятите от 1834 г.;
Г) фермана на султан Мустафа III от 1773 г.;
Д) фермана на Селим III от края на XVIII век.
- 11) Кои от следните възрожденски дейци не са възпитаници на гръцки училища?
А) Димитър и Константин Миладинови;
Б) Г. Раковски и П. Бобеков;
В) К. Фотинов и Г. Кръстевич;
Г) д-р Ст. Чомаков и Ив. Богоров;
Д) Хр. Ботев и В. Левски.

- 12) Кога е създадено Одеското българско настоятелство и кои са негови видни членове?
- А) през 1870 г. с членове Пандели Кисимов, Иван Адженов, Ив. Грудов, Н. Палаузов;
 - Б) през 1858 г. с членове Николай Х. Палаузов, Николай М. Тошков, бр. Тошкович, Василий Рашеев, К. Палаузов;
 - В) през 1865 г. с членове Стефан Ряпов, Ив. Касабов, бр. Тошкови, Василий Рашеев, Д. Диамандиев;
 - Г) през 1869 г. с членове Н. Палаузов, Атанас Узунов, д-р П. Протич, д-р Г. Атанасович, Панарет Рашев;
 - Д) през 1860 г. с членове Николай Тошков, Хр. Мустаков, Киряк Цанков, Г. Мамарчев, ген. Фадеев.
- 13) Колко основни течения се оформят в българското освободително движение през 50-те и 60-те години на XIX в.?
- А) три течения – революционно-демократично; буржоазнолиберално и буржоазноконсервативно;
 - Б) три течения – четническо движение, комитетско движение и буржоазнолиберално движение;
 - В) две движения – консервативно и либерално;
 - Г) три движения – националноосвободително, национално-революционно и национално-еволюционно;
 - Д) две течения – революционно и буржоазнодемократично.
- 14) Кога и къде се провежда Първото общо събрание на БРЦК?
- А) от 29 април до 5 май 1870 г. в Букурещ;
 - Б) през зимата 1869 – 1870 г. в Браила;
 - В) през май 1873 г. в Гюргево;
 - Г) от 29 април до 4 май 1872 г. в Букурещ;
 - Д) от 5 до 6 април през 1869 г. в Букурещ.
- 15) Гюргевският революционен комитет взема решение на българска територия да се формират:
- А) няколко големи чети, които да осъществят нападения над турската столица;
 - Б) Българска земска войска и Привременно правителство;
 - В) според различните извори четири или пет революционни окръга;
 - Г) въоръжени български отряди за помощ на руската армия;
 - Д) три революционни окръга.
- 16) Според тайните конвенции, подписани между Русия и Австро-Унгария в началото на 1877 г.:
- А) е решено Русия да окупира Босна и Херцеговина;
 - Б) се изключва възможността за създаване на голяма славянска държава на Балканите;
 - В) Австро-Унгария се съгласява да се наложи пълен руски контрол над Проливите;
 - Г) Русия се съгласява да смени дипломатическия си представител в Цариград Н. П. Игнатиев с друго лице;
 - Д) Русия се съгласява Австро-Унгария да окупира Македония.
- 17) Коя е основна причина за неуспеха на българската национална революция (Априлското въстание от 1876 г.)?
- А) икономическата слабост на българската буржоазия;
 - Б) в много региони въстанието не избухва;
 - В) липсата на централно ръководство вътре в българските земи;
 - Г) лошото въоръжение;
 - Д) ненамесата на Великите сили по време на въстанието.

- 18) Кога се подписва Търновската конституция от депутатите в Учредителното събрание?
- А) 10 февруари 1879 г.;
 - Б) 16 февруари 1879 г.;
 - В) 16 април 1879 г.;
 - Г) 16 април 1878 г.;
 - Д) 14 април 1878 г.
- 19) От кого е подписан и кой утвърждава Органическият устав на Източна Румелия?
- А) подписан е от членове на Европейската комисия в Цариград и е утвърден от турския султан;
 - Б) подписан е от представителите на Великите сили в София и е утвърден от Русия;
 - В) подписан е от народните представители в Областното събрание и е утвърден от Великите сили;
 - Г) подписан е от първия генерал-губернатор Ал. Богориди и е утвърден от консулите на Великите сили в Одрин;
 - Д) от представителите на Русия и Турция и е утвърден от останалите Велики сили.
- 20) Има ли намеса Временното руско управление по аграрния преврат през неговия военновременен етап?
- А) по време на войната аграрният преврат протича стихийно. Населението прибира реколтата и засява изоставените земи. Липсва намеса на руските власти;
 - Б) изоставените земи се засяват от местното население и бежанците през пролетта на 1878 след издаване на постановление (на 15 март 1878) от руските власти;
 - В) реколтата се прибира от българите и задължително се предава на общините за прехрана на руската армия. През пролетта на 1878 г., без разрешение на руските власти, земите се засяват от българите. Затова и аграрният преврат е стихийен;
 - Г) през ноември 1877 г. руските власти издават специален циркуляр. С него те разрешават „постфактум” на бежанците и местното население да засяват изоставените от турците земи;
 - Д) руските власти разрешават прибирането на реколтата през лятото на 1877 г. само на най-бедното население. Срещу това чрез разпоредба на княз Вл. Черкаски то се задължава да предаде половината от събраната реколта за прехрана на руската армия през зимата на 1877 – 1878 г.
- 21) Кои са лидерите на Народната (съединистката) партия в Източна Румелия?
- А) д-р Георги Странски, д-р Стоян Чомаков, Иван Салабашев, Тодор Кесяков и др.;
 - Б) Иван Евстр. Гешов, д-р Георги Странски, д-р Георги Вълкович, Иван Салабашев и др.;
 - В) Димитър Греков, Иван Андонов, д-р Георги Вълкович, Иван Вазов и др.;
 - Г) Иван Евстр. Гешов, Иван Ст. Гешов, Михаил Маджаров, д-р Георги Хаканов и др.;
 - Д) Иван Ст. Гешов, Димитър Греков, Константин Величков, Стоян Чомаков и др.
- 22) Началник-щаб на Западния корпус и началник на артилерията (сражавали се при Сливница) са:
- А) кап. Рачо Петров и кап. Коста Паница;
 - Б) майор Данаил Николаев и кап. Коста Паница;
 - В) кап. Рачо Петров и кап. Стефан Кисъв;
 - Г) кап. Попов и кап. Атанас Узунов;
 - Д) кап. Стефан Паприков и кап. Олимпи Панов.

- 23) От кого и защo е взет първият държавен заем на Княжество България?
- А) от правителството на П. Каравелов за изплащане на натрупаните дългове по време на Сръбско-българската война;
 - Б) от правителството на К. Стоилов за строеж на паралелната жп линия в Южна България;
 - В) от правителството на Ст. Стамболов за изкупуване на железопътната линия Русе - Варна;
 - Г) от правителството на Ст. Стамболов за строителството на пристанищата Варна и Бургас;
 - Д) от княз Фердинанд за въоръжаване на армията.
- 24) След абдикацията на княз Александър I Батенберг е съставено правителство начело със:
- А) Ст. Стамболов;
 - Б) д-р В. Радославов;
 - В) П. Каравелов;
 - Г) Тодор Иванчов;
 - Д) подп. С. Муткуров.
- 25) В правителството на Народната партия (1894 - 1899 г.) Ив. Евстр. Гешов заема поста на:
- А) министър-председател;
 - Б) министър на външните работи и изповеданията;
 - В) министър на финансите;
 - Г) министър на правосъдието;
 - Д) министър на вътрешните работи.
- 26) През 1903 г. България се управлява от:
- А) Народнолибералната партия;
 - Б) Прогресивнолибералната и Народнолибералната партия;
 - В) Демократическата и Прогресивнолибералната партия;
 - Г) Демократическата, Прогресивнолибералната и Народнолибералната партия;
 - Д) Народната и Народнолибералната партия.
- 27) Пристанищата във Варна и Бургас са открити съответно през:
- А) 1899 и 1901 г.;
 - Б) 1901 и 1903 г.;
 - В) 1903 и 1906 г.;
 - Г) 1900 и 1903 г.;
 - Д) 1903 и 1909 г.
- 28) Кой български политически деец и дипломат води преговорите с Турция във връзка с изострените отношения по време на Илинденско-Преображенското въстание и завършили с подписване на споразумение между двете страни през 1904 г.?
- А) Иван Шишманов;
 - Б) Димитър Петков;
 - В) Рачо Петров;
 - Г) Григор Начович;
 - Д) Павел Гудев.
- 29) В стопанската си политика правителството Гешов – Данев отделя най-много внимание на:
- А) селското стопанство;
 - Б) индустрията;
 - В) съобщенията;
 - Г) търговията;
 - Д) транспорта.

- 30)** Кога и от кого е основана в Солун мъжката гимназия “Св. Св. Кирил и Методий“?
- А) през 1908 г. от дошлия на власт младотурски режим;
 - Б) през Възраждането от българската църковна община в Солун. Официално е открита през 1870 г.;
 - В) през 1872 г. от създадената Българска екзархия;
 - Г) през 1892 г. в резултат на силен натиск от правителството на Стамболов Високата порта разрешава на Солунската община да открие мъжка гимназия;
 - Д) през 1880 г., създадена и учредена от Солунската българска община и от Екзархията.
- 31)** Кога, къде и от кого е основано дружество “Странджа“?
- А) през 1895 г. в София от Константин Стоилов, Стефан Стамболов, Манол Ковачев и др.;
 - Б) през 1896 г. в Солун от Петко Киряков, Стефан Стамболов, Гьорче Петров и др.;
 - В) през 1896 г. в гр. Варна от Петко войвода, Петър Стоилов, Петър и Никола Драгулеви и др.;
 - Г) през 1895 г. в Одрин от д-р Христо Татарчев, Христо Коцев и др.;
 - Д) през 1897 г. в Бургас от Д. Маджаров, М. Герджиков, Лазар Стаматов и др.
- 32)** На кого е възложена задачата да изработи проект за първия устав на ВМОРО (1894 г.)?
- А) на Христо Татарчев;
 - Б) на Дамян Груев и Гоце Делчев;
 - В) на Петър Попарсов;
 - Г) на Хр. Татарчев и Д. Груев;
 - Д) на Я. Сандански и Г. Делчев.
- 33)** Какво налага през ноември 1915 г. да бъде преустановено настъплението на Втора българска армия на Южния фронт?
- А) упоритата съпротива на сръбската и гръцката армия;
 - Б) румънското настъпление в тила на българската армия;
 - В) холерната епидемия и умората на българските войници;
 - Г) решение на германското командване, което е продиктувано от военнополитическите интереси на Германия;
 - Д) неуспешната атака срещу Чаталджа.
- 34)** Кога и къде възниква първата театрална труппа в България?
- А) през 90-те години на XIX в. в София;
 - Б) в началото на XX в. в Пловдив. През 1906 г. се премества в София и се настанява в новия театър;
 - В) през 1897 г. Кръстьо Сарафов създава първата театрална труппа в София;
 - Г) в началото на 80-те години на XIX в. в Пловдив. След Съединението се премества в София;
 - Д) през 1884 г. Кръстьо Сарафов създава първата театрална труппа във Варна. След Съединението се премества в София.
- 35)** Кога и от кого се подписва Лондонският мирен договор?
- А) на 30 април 1913 г. представителите на Великите сили заедно с тези на воювалите държави подписват Лондонския мирен договор;
 - Б) на 1 юни 1913 г. турският делегат и представителят на воювалите държави Венизелос подписват мирния договор;
 - В) на 17 май 1913 г. под натиска на европейската дипломация делегатите на воювалите държави подписват договора за мир;
 - Г) на 8 декември 1912 г. Турция, Сърбия и Гърция подписват Лондонския мирен договор, а България, недоволна от разпределението на турското наследство, отказва да го подпише и малко след това започва вторият етап на войната;
 - Д) на 25 май 1913 г. представители на Великите сили и министър-председателите на воюващите държави подписват мирния договор.

- 36)** Букурещ е завладян:
- А) през август 1916 г. от германски и турски дивизии;
 - Б) през март 1917 г. от съединения на австро-унгарската армия;
 - В) през декември 1916 г. от германски и български дивизии;
 - Г) през август 1916 г. от обединените войски на Централните сили;
 - Д) през Първата световна война Букурещ не е завладяван от противникови войски.
- 37)** Кой от посочените генерали и кога е назначен от цар Фердинанд за главнокомандващ Българската действаща армия?
- А) на 1 септември 1915 г. ген. Рачо Петров;
 - Б) на 15 август 1915 г. ген. Михаил Савов;
 - В) на 25 септември 1915 г. ген. Константин Жостов;
 - Г) на 15 юли 1914 г. ген. Радко Димитриев;
 - Д) на 25 септември 1915 г. ген. Никола Жеков.
- 38)** Кога и как са открити Агрономическият, Медицинският, Ветеринарномедицинският и Богословският факултет към Софийския университет?
- А) през 1919 г. със Закона за народната просвета;
 - Б) през 1907 г. със Закона за народната просвета по предложение на проф. Иван Шишманов (тогава министър на просвещението);
 - В) през 1911 г. със Закона за народните училища по предложение на Иван Евстр. Гешов (тогава той е и председател на БАН);
 - Г) през 1921 г. със Закона за народната просвета;
 - Д) През 1922 г. със Закона за народните училища по предложение на Висшия съвет на БЗНС.
- 39)** Кога и как БЗНС съставя самостоятелно правителство?
- А) през август 1919 г., когато е даден мандат на Ал. Стамболийски да образува кабинет;
 - Б) през октомври 1919 г. е назначен служебен кабинет само от министри, членове на БЗНС;
 - В) през май 1920 г. след касиране на 13 депутати, за да получи мнозинство в парламента;
 - Г) през януари 1921 г. след поредните парламентарни избори;
 - Д) през май 1920 г. цар Борис съставя служебно правителство само от представители на БЗНС.
- 40)** Какво е значението на Нишкото споразумение между България и Сърбо-Хърватско-Словенското кралство, подписано през март 1923 г.?
- А) то е добра основа за земеделското правителство да се бори за напредък по проблема на репарациите и по въпроса за излаза на Бяло море;
 - Б) България получава митнически облекчения спрямо западната си съседка;
 - В) разглежда се въпросът за изграждане на Балканска федерация;
 - Г) подписана е културна спогодба между България и Югославия;
 - Д) поставен е въпросът за създаването на безмитна балканска зона.

ЕПИ - ИСТОРИЯ НА БЪЛГАРИЯ - 18.07.2009

запълва се с тънкописец
цялото кръгче на отговора

обща част / модул 1 - български език и езикова култура

1	<input type="radio"/> А	<input checked="" type="radio"/> Б	<input type="radio"/> В	<input type="radio"/> Г	<input type="radio"/> Д
2	<input type="radio"/> А	<input type="radio"/> Б	<input type="radio"/> В	<input checked="" type="radio"/> Г	<input type="radio"/> Д
3	<input type="radio"/> А	<input type="radio"/> Б	<input type="radio"/> В	<input checked="" type="radio"/> Г	<input type="radio"/> Д
4	<input type="radio"/> А	<input checked="" type="radio"/> Б	<input type="radio"/> В	<input type="radio"/> Г	<input type="radio"/> Д
5	<input type="radio"/> А	<input type="radio"/> Б	<input checked="" type="radio"/> В	<input type="radio"/> Г	<input type="radio"/> Д
6	<input type="radio"/> А	<input type="radio"/> Б	<input checked="" type="radio"/> В	<input type="radio"/> Г	<input type="radio"/> Д
7	<input type="radio"/> А	<input type="radio"/> Б	<input type="radio"/> В	<input type="radio"/> Г	<input checked="" type="radio"/> Д
8	<input type="radio"/> А	<input type="radio"/> Б	<input checked="" type="radio"/> В	<input type="radio"/> Г	<input type="radio"/> Д
9	<input type="radio"/> А	<input type="radio"/> Б	<input type="radio"/> В	<input checked="" type="radio"/> Г	<input type="radio"/> Д
10	<input checked="" type="radio"/> А	<input type="radio"/> Б	<input type="radio"/> В	<input type="radio"/> Г	<input type="radio"/> Д
11	<input type="radio"/> А	<input type="radio"/> Б	<input type="radio"/> В	<input type="radio"/> Г	<input checked="" type="radio"/> Д
12	<input type="radio"/> А	<input type="radio"/> Б	<input type="radio"/> В	<input checked="" type="radio"/> Г	<input type="radio"/> Д
13	<input type="radio"/> А	<input type="radio"/> Б	<input checked="" type="radio"/> В	<input type="radio"/> Г	<input type="radio"/> Д
14	<input type="radio"/> А	<input checked="" type="radio"/> Б	<input type="radio"/> В	<input type="radio"/> Г	<input type="radio"/> Д
15	<input checked="" type="radio"/> А	<input type="radio"/> Б	<input type="radio"/> В	<input type="radio"/> Г	<input type="radio"/> Д
16	<input type="radio"/> А	<input type="radio"/> Б	<input checked="" type="radio"/> В	<input type="radio"/> Г	<input type="radio"/> Д
17	<input type="radio"/> А	<input type="radio"/> Б	<input type="radio"/> В	<input type="radio"/> Г	<input checked="" type="radio"/> Д
18	<input type="radio"/> А	<input type="radio"/> Б	<input type="radio"/> В	<input type="radio"/> Г	<input checked="" type="radio"/> Д
19	<input type="radio"/> А	<input type="radio"/> Б	<input type="radio"/> В	<input checked="" type="radio"/> Г	<input type="radio"/> Д
20	<input checked="" type="radio"/> А	<input type="radio"/> Б	<input type="radio"/> В	<input type="radio"/> Г	<input type="radio"/> Д

обща част / модул 2 - математика основи

1	<input type="radio"/> А	<input type="radio"/> Б	<input type="radio"/> В	<input checked="" type="radio"/> Г	<input type="radio"/> Д
2	<input type="radio"/> А	<input type="radio"/> Б	<input type="radio"/> В	<input checked="" type="radio"/> Г	<input type="radio"/> Д
3	<input type="radio"/> А	<input checked="" type="radio"/> Б	<input type="radio"/> В	<input type="radio"/> Г	<input type="radio"/> Д
4	<input type="radio"/> А	<input type="radio"/> Б	<input type="radio"/> В	<input type="radio"/> Г	<input checked="" type="radio"/> Д
5	<input checked="" type="radio"/> А	<input type="radio"/> Б	<input type="radio"/> В	<input type="radio"/> Г	<input type="radio"/> Д
6	<input type="radio"/> А	<input type="radio"/> Б	<input type="radio"/> В	<input type="radio"/> Г	<input checked="" type="radio"/> Д
7	<input type="radio"/> А	<input checked="" type="radio"/> Б	<input type="radio"/> В	<input type="radio"/> Г	<input type="radio"/> Д
8	<input type="radio"/> А	<input type="radio"/> Б	<input type="radio"/> В	<input type="radio"/> Г	<input checked="" type="radio"/> Д
9	<input type="radio"/> А	<input type="radio"/> Б	<input type="radio"/> В	<input type="radio"/> Г	<input checked="" type="radio"/> Д
10	<input type="radio"/> А	<input type="radio"/> Б	<input checked="" type="radio"/> В	<input type="radio"/> Г	<input type="radio"/> Д
11	<input type="radio"/> А	<input checked="" type="radio"/> Б	<input type="radio"/> В	<input type="radio"/> Г	<input type="radio"/> Д
12	<input type="radio"/> А	<input type="radio"/> Б	<input type="radio"/> В	<input checked="" type="radio"/> Г	<input type="radio"/> Д
13	<input type="radio"/> А	<input type="radio"/> Б	<input type="radio"/> В	<input checked="" type="radio"/> Г	<input type="radio"/> Д
14	<input checked="" type="radio"/> А	<input type="radio"/> Б	<input type="radio"/> В	<input type="radio"/> Г	<input type="radio"/> Д
15	<input type="radio"/> А	<input type="radio"/> Б	<input type="radio"/> В	<input checked="" type="radio"/> Г	<input type="radio"/> Д
16	<input type="radio"/> А	<input type="radio"/> Б	<input checked="" type="radio"/> В	<input type="radio"/> Г	<input type="radio"/> Д
17	<input type="radio"/> А	<input type="radio"/> Б	<input type="radio"/> В	<input type="radio"/> Г	<input checked="" type="radio"/> Д
18	<input checked="" type="radio"/> А	<input type="radio"/> Б	<input type="radio"/> В	<input type="radio"/> Г	<input type="radio"/> Д
19	<input checked="" type="radio"/> А	<input type="radio"/> Б	<input type="radio"/> В	<input type="radio"/> Г	<input type="radio"/> Д
20	<input type="radio"/> А	<input checked="" type="radio"/> Б	<input type="radio"/> В	<input type="radio"/> Г	<input type="radio"/> Д

специална част / модул 3

1	<input type="radio"/> А	<input type="radio"/> Б	<input type="radio"/> В	<input type="radio"/> Г	<input checked="" type="radio"/> Д
2	<input type="radio"/> А	<input checked="" type="radio"/> Б	<input type="radio"/> В	<input type="radio"/> Г	<input type="radio"/> Д
3	<input type="radio"/> А	<input type="radio"/> Б	<input checked="" type="radio"/> В	<input type="radio"/> Г	<input type="radio"/> Д
4	<input type="radio"/> А	<input type="radio"/> Б	<input type="radio"/> В	<input type="radio"/> Г	<input checked="" type="radio"/> Д
5	<input type="radio"/> А	<input checked="" type="radio"/> Б	<input type="radio"/> В	<input type="radio"/> Г	<input type="radio"/> Д
6	<input type="radio"/> А	<input type="radio"/> Б	<input checked="" type="radio"/> В	<input type="radio"/> Г	<input type="radio"/> Д
7	<input type="radio"/> А	<input checked="" type="radio"/> Б	<input type="radio"/> В	<input type="radio"/> Г	<input type="radio"/> Д
8	<input type="radio"/> А	<input type="radio"/> Б	<input type="radio"/> В	<input checked="" type="radio"/> Г	<input type="radio"/> Д
9	<input type="radio"/> А	<input type="radio"/> Б	<input type="radio"/> В	<input type="radio"/> Г	<input checked="" type="radio"/> Д
10	<input type="radio"/> А	<input type="radio"/> Б	<input type="radio"/> В	<input checked="" type="radio"/> Г	<input type="radio"/> Д
11	<input type="radio"/> А	<input type="radio"/> Б	<input type="radio"/> В	<input type="radio"/> Г	<input checked="" type="radio"/> Д
12	<input type="radio"/> А	<input checked="" type="radio"/> Б	<input type="radio"/> В	<input type="radio"/> Г	<input type="radio"/> Д
13	<input checked="" type="radio"/> А	<input type="radio"/> Б	<input type="radio"/> В	<input type="radio"/> Г	<input type="radio"/> Д
14	<input type="radio"/> А	<input type="radio"/> Б	<input type="radio"/> В	<input checked="" type="radio"/> Г	<input type="radio"/> Д
15	<input type="radio"/> А	<input type="radio"/> Б	<input checked="" type="radio"/> В	<input type="radio"/> Г	<input type="radio"/> Д
16	<input type="radio"/> А	<input checked="" type="radio"/> Б	<input type="radio"/> В	<input type="radio"/> Г	<input type="radio"/> Д
17	<input checked="" type="radio"/> А	<input type="radio"/> Б	<input type="radio"/> В	<input type="radio"/> Г	<input type="radio"/> Д
18	<input type="radio"/> А	<input type="radio"/> Б	<input checked="" type="radio"/> В	<input type="radio"/> Г	<input type="radio"/> Д
19	<input checked="" type="radio"/> А	<input type="radio"/> Б	<input type="radio"/> В	<input type="radio"/> Г	<input type="radio"/> Д
20	<input type="radio"/> А	<input type="radio"/> Б	<input type="radio"/> В	<input checked="" type="radio"/> Г	<input type="radio"/> Д
21	<input type="radio"/> А	<input type="radio"/> Б	<input type="radio"/> В	<input checked="" type="radio"/> Г	<input type="radio"/> Д
22	<input type="radio"/> А	<input type="radio"/> Б	<input type="radio"/> В	<input type="radio"/> Г	<input checked="" type="radio"/> Д
23	<input type="radio"/> А	<input type="radio"/> Б	<input checked="" type="radio"/> В	<input type="radio"/> Г	<input type="radio"/> Д
24	<input type="radio"/> А	<input checked="" type="radio"/> Б	<input type="radio"/> В	<input type="radio"/> Г	<input type="radio"/> Д
25	<input type="radio"/> А	<input type="radio"/> Б	<input checked="" type="radio"/> В	<input type="radio"/> Г	<input type="radio"/> Д
26	<input type="radio"/> А	<input checked="" type="radio"/> Б	<input type="radio"/> В	<input type="radio"/> Г	<input type="radio"/> Д
27	<input type="radio"/> А	<input type="radio"/> Б	<input checked="" type="radio"/> В	<input type="radio"/> Г	<input type="radio"/> Д
28	<input type="radio"/> А	<input type="radio"/> Б	<input type="radio"/> В	<input checked="" type="radio"/> Г	<input type="radio"/> Д
29	<input checked="" type="radio"/> А	<input type="radio"/> Б	<input type="radio"/> В	<input type="radio"/> Г	<input type="radio"/> Д
30	<input type="radio"/> А	<input type="radio"/> Б	<input type="radio"/> В	<input type="radio"/> Г	<input checked="" type="radio"/> Д
31	<input type="radio"/> А	<input type="radio"/> Б	<input checked="" type="radio"/> В	<input type="radio"/> Г	<input type="radio"/> Д
32	<input type="radio"/> А	<input type="radio"/> Б	<input checked="" type="radio"/> В	<input type="radio"/> Г	<input type="radio"/> Д
33	<input type="radio"/> А	<input type="radio"/> Б	<input type="radio"/> В	<input checked="" type="radio"/> Г	<input type="radio"/> Д
34	<input type="radio"/> А	<input type="radio"/> Б	<input type="radio"/> В	<input checked="" type="radio"/> Г	<input type="radio"/> Д
35	<input type="radio"/> А	<input type="radio"/> Б	<input checked="" type="radio"/> В	<input type="radio"/> Г	<input type="radio"/> Д
36	<input type="radio"/> А	<input type="radio"/> Б	<input checked="" type="radio"/> В	<input type="radio"/> Г	<input type="radio"/> Д
37	<input type="radio"/> А	<input type="radio"/> Б	<input type="radio"/> В	<input type="radio"/> Г	<input checked="" type="radio"/> Д
38	<input type="radio"/> А	<input type="radio"/> Б	<input type="radio"/> В	<input checked="" type="radio"/> Г	<input type="radio"/> Д
39	<input type="radio"/> А	<input type="radio"/> Б	<input checked="" type="radio"/> В	<input type="radio"/> Г	<input type="radio"/> Д
40	<input checked="" type="radio"/> А	<input type="radio"/> Б	<input type="radio"/> В	<input type="radio"/> Г	<input type="radio"/> Д